

Asignatura: **GEOGRAFÍA**

Tiempo máximo de la prueba: 1h. 30 min.

El alumno deberá elegir una de las dos opciones completas de examen, sin posibilidad de que se puedan combinar preguntas de ambos.

La puntuación total de cada una de las opciones será de 10 puntos, pudiendo modificarse en un punto la calificación final por la presentación, ortografía y calidad de redacción, a juicio del corrector.

OPCIÓN A:

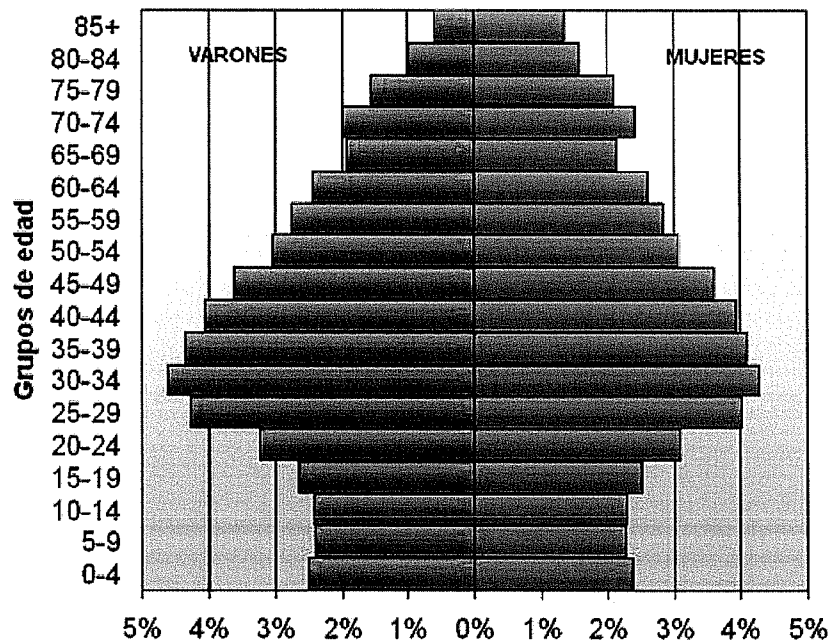
1.- RESPONDA A UNO DE LOS TEMAS SIGUIENTES:

A.- Factores condicionantes de la actividad agraria en España y en Extremadura.

B.- El sistema urbano español.

La respuesta se desarrollará, como máximo, en dos caras de folio, y se valorará con tres puntos.

2.- A LA VISTA DE LA SIGUIENTE PIRÁMIDE DE EDADES DE ESPAÑA (2010):



Asignatura: GEOGRAFÍA

Tiempo máximo de la prueba: 1h. 30 min.

- a) Describe su aspecto general y destaca las incidencias más notables de su estructura.
b) Realiza una valoración de la situación demográfica de España que refleja esta pirámide de edades.

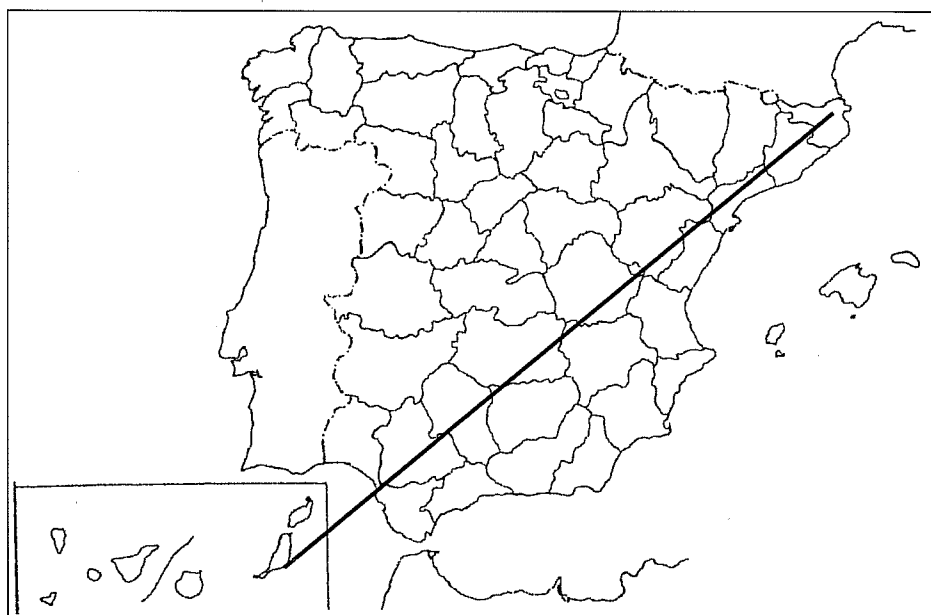
El comentario se desarrollará en la cara de un folio y se valorará con tres puntos.

3.- DEFINA BREVEMENTE LOS SIGUIENTES TÉRMINOS GEOGRÁFICOS Y PONGA ALGÚN EJEMPLO EN RELACIÓN CON ELLOS:

- Amplitud térmica
- Gradiente térmico
- Energías renovables
- Conurbación
- Banco Mundial

Cada una de las respuestas se valorará con 0.4 puntos, hasta un total de dos puntos.

4.- EN UNO DE LOS FOLIOS DEL EXAMEN, RELACIONE – DE NE A SO- LAS PROVINCIAS ATRAVESADAS POR LA LÍNEA, ASÍ COMO LAS ISLAS, LOS SISTEMAS MONTAÑOSOS Y LOS RÍOS PRINCIPALES.



La respuesta se valorará con un máximo de dos puntos.

Asignatura: **GEOGRAFÍA**

Tiempo máximo de la prueba: 1h. 30 min.

El alumno deberá elegir una de las dos opciones completas de examen, sin posibilidad de que se puedan combinar preguntas de ambos.

La puntuación total de cada una de las opciones será de 10 puntos, pudiendo modificarse en un punto la calificación final por la presentación, ortografía y calidad de redacción, a juicio del corrector.

OPCIÓN B:

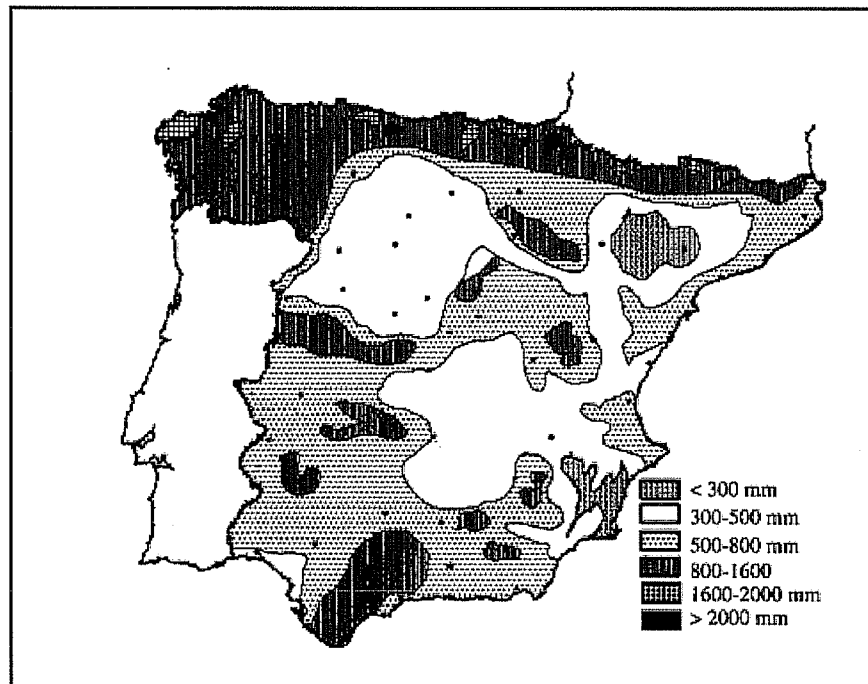
1.- RESPONDA A UNO DE LOS TEMAS SIGUIENTES:

A.- El roquedo peninsular y los tipos de relieve.

B.- Dinámica vegetativa de la población española y extremeña.

La respuesta se desarrollará, como máximo, en dos caras de folio, y se valorará con tres puntos.

2.- A LA VISTA DEL SIGUIENTE MAPA DE DISTRIBUCIÓN DE LAS PRECIPITACIONES ANUALES:



Asignatura: GEOGRAFÍA

Tiempo máximo de la prueba: 1h. 30 min.

a) Indique cuáles son las características principales de esta distribución.

b) Explique los factores geográficos que justifican este reparto.

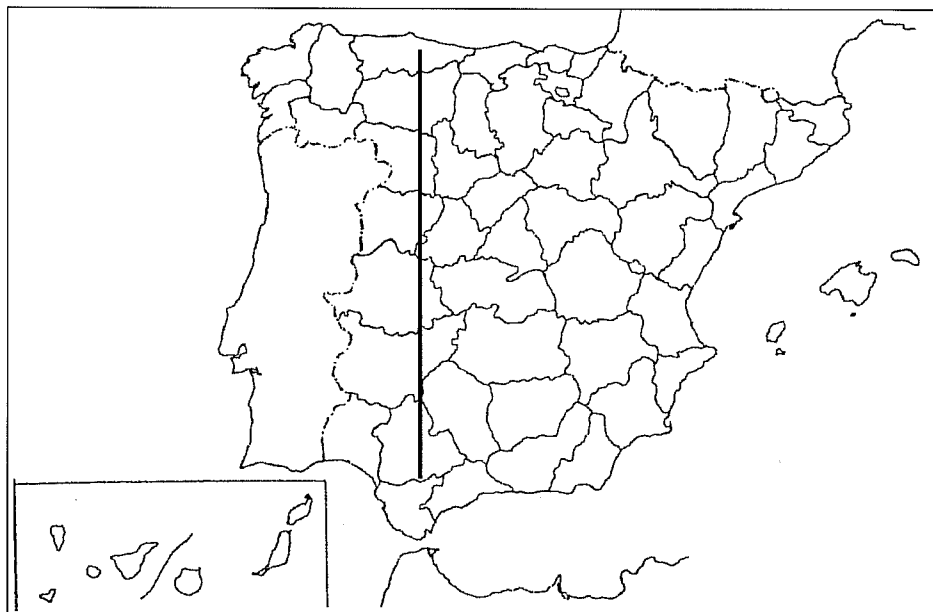
El comentario se desarrollará en la cara de un folio y se valorará con tres puntos.

3.- DEFINA BREVEMENTE LOS SIGUIENTES TÉRMINOS GEOGRÁFICOS Y PONGA ALGÚN EJEMPLO EN RELACIÓN CON ELLOS:

- Vertiente hidrográfica
- Crecimiento natural o vegetativo
- Éxodo rural
- Policultivo
- Modulación

Cada una de las respuestas se valorará con 0.4 puntos, hasta un total de dos puntos.

4.- EN UNO DE LOS FOLIOS DEL EXAMEN, RELACIONE – DE N A S- LAS PROVINCIAS ATRAVESADAS POR LA LÍNEA, ASÍ COMO LOS SISTEMAS MONTAÑOSOS Y LOS RÍOS PRINCIPALES.



La respuesta se valorará con un máximo de dos puntos.