

Asignatura: **GEOGRAFÍA**

Tiempo máximo de la prueba: 1h.30 min.

El alumno deberá elegir una de las dos opciones completas de examen, sin posibilidad de que se puedan combinar preguntas de ambos.

La puntuación total de cada una de las opciones será de 10 puntos, pudiendo modificarse en un punto la calificación final por la presentación, ortografía y calidad de redacción, a juicio del corrector.

### **OPCIÓN A:**

#### **1.- RESPONDA A UNO DE LOS TEMAS SIGUIENTES:**

##### **A.- Factores condicionantes de la actividad agraria.**

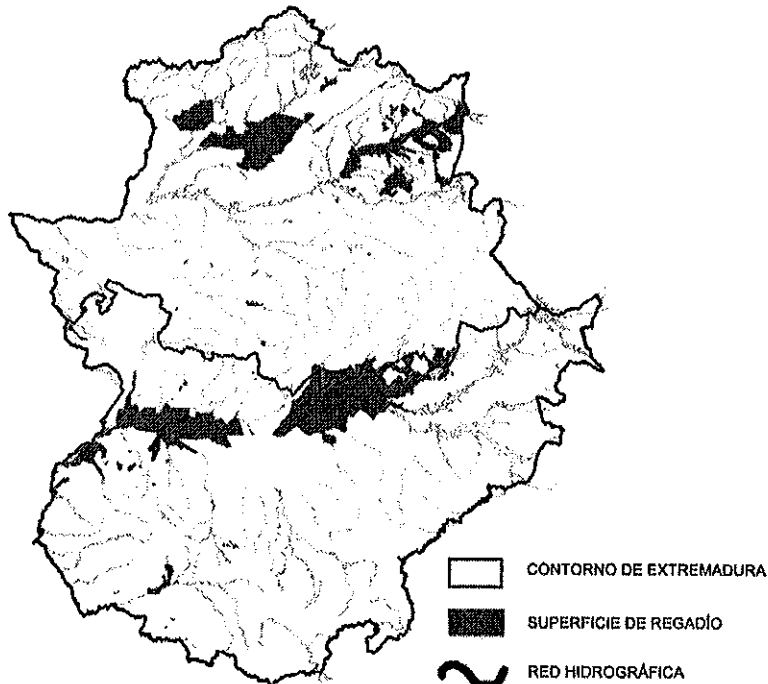
Defina los siguientes términos geográficos: **Tasa de Fecundidad, Industria Pesada y Comarca**

##### **B.- La emigración española desde mediados del siglo XX.**

Defina los siguientes términos geográficos: **Glaciarismo, Escorrentía y Población Activa**

*Las respuestas se desarrollarán, como máximo, en dos caras de folio, y se valorarán con 2,5 puntos. Cada uno de los términos geográficos se valorará con 0,5 puntos. El valor máximo de la pregunta es de 4 puntos*

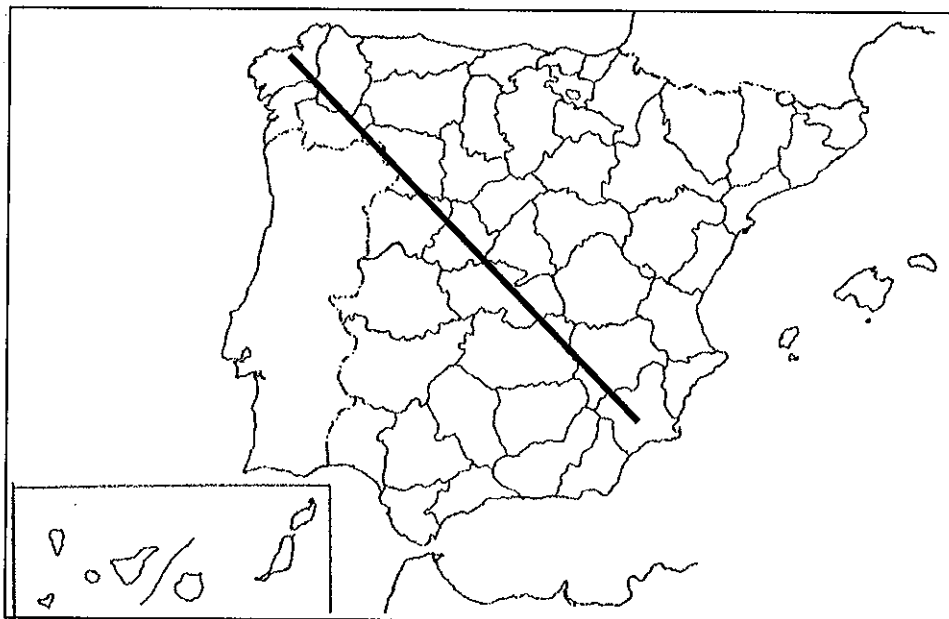
#### **2.- A la vista del siguiente mapa de localización del regadío en Extremadura:**



- a) Indique cuál es la localización geográfica del regadío.
- b) Explique los factores físicos y humanos que justifican esta localización.
- c) Defina los siguientes términos geográficos: Solana, Casco Antiguo y Censo de Población

*La respuesta a la pregunta se desarrollará, como máximo, en dos caras de folio, y se valorará con 2,5 puntos. Cada uno de los términos geográficos se valorará con 0,5 puntos. El valor máximo de la pregunta es de 4 puntos*

3.- En uno de los folios del examen, enumere –de NO a SE- las provincias afectadas por la línea, desde el origen hasta el final de la misma, así como las unidades de relieve y los ríos principales.



Modelo de tabla para enumerar las respuestas a la pregunta:

Provincias	Unidades relieve	Ríos

*La respuesta se valorará con un máximo de dos puntos*

Asignatura: **GEOGRAFÍA**

Tiempo máximo de la prueba: 1h.30 min.

El alumno deberá elegir una de las dos opciones completas de examen, sin posibilidad de que se puedan combinar preguntas de ambos.

La puntuación total de cada una de las opciones será de 10 puntos, pudiendo modificarse en un punto la calificación final por la presentación, ortografía y calidad de redacción, a juicio del corrector.

## OPCIÓN B:

### 1.- RESPONDA A UNO DE LOS TEMAS SIGUIENTES:

#### A.- Los tipos de clima en España.

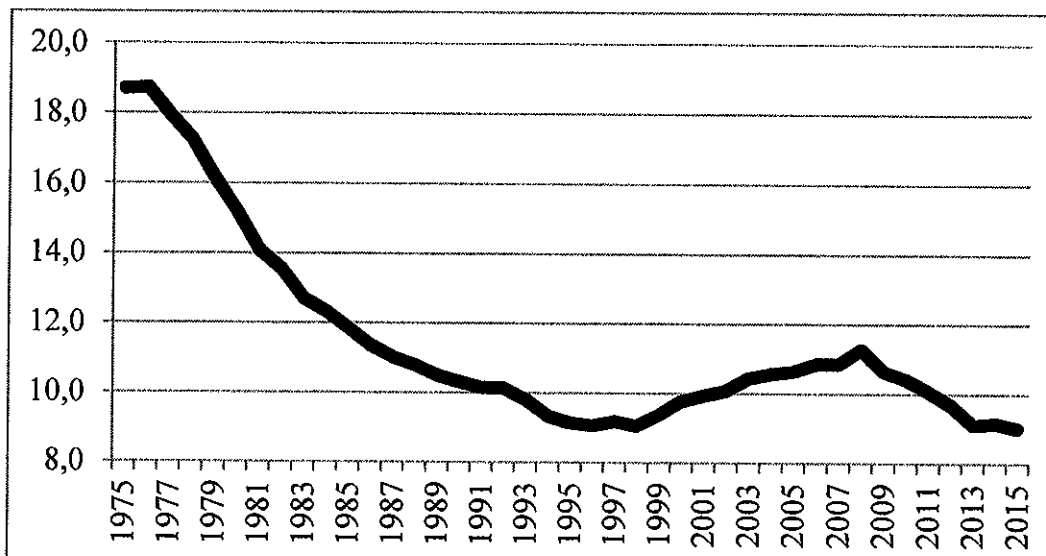
Defina los siguientes términos geográficos: **Garriga, Deforestación y Multinacional.**

#### B.- La España de las Autonomías.

Defina los siguientes términos geográficos: **Mapa, Orogenia y Sotavento**

*Las respuestas se desarrollarán, como máximo, en dos caras de folio, y se valorará con 2,5 puntos. Cada uno de los términos geográficos se valorará con 0,5 puntos. El valor máximo de la pregunta es de 4 puntos*

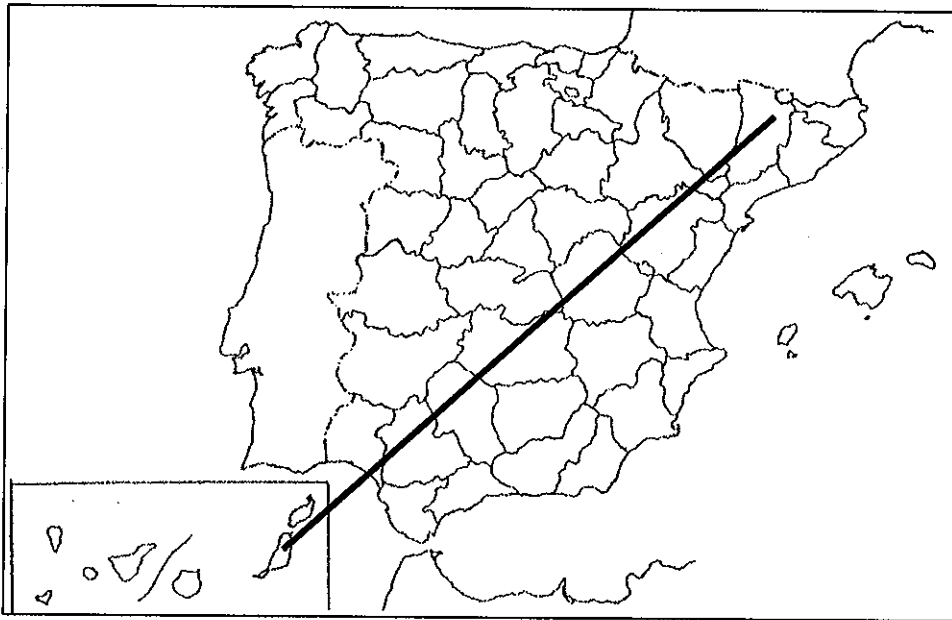
### 2.- A la vista del siguiente gráfico sobre la evolución de la Tasa de Natalidad española:



- a) Señale las características de esta evolución.
- b) Explique los factores que hayan podido influir en la misma.
- c) Defina los siguientes términos geográficos: **Hábitat Rural, Periurbano y Parque Tecnológico**

*La respuesta a la pregunta se desarrollará, como máximo, en dos caras de folio, y se valorará con 2,5 puntos. Cada uno de los términos geográficos se valorará con 0,5 puntos. El valor máximo de la pregunta es de 4 puntos*

**3.- En uno de los folios del examen, enumere –de NE a SO- las provincias e islas afectadas por la línea, desde el origen hasta el final de la misma, así como las unidades de relieve y los ríos principales.**



Modelo de tabla para enumerar las respuestas a la pregunta:

Provincias	Unidades relieve	Ríos

*La respuesta se valorará con un máximo de 2 puntos*