



# Prueba de Evaluación de Bachillerato para el Acceso a la Universidad (EBAU)

Universidad de Extremadura  
Curso 2021-2022

Materia: **GEOGRAFÍA**

Tiempo máximo de la prueba: 1h 30 min

## INSTRUCCIONES PARA REALIZAR EL EXAMEN.

El examen está estructurado en **cuatro bloques de preguntas**.

- El **primero** de ellos consta de dos preguntas sobre temas geográficos a desarrollar, de las cuales el estudiante ha de **elegir una**. La puntuación máxima será de **2,5 puntos**.
- En el **segundo** bloque se presentan dos ejercicios prácticos, de los que el estudiante ha de **seleccionar y comentar uno**. La puntuación máxima es de **2,5 puntos**.
- El **tercer** bloque presenta dos grupos de términos geográficos. El estudiante debe **seleccionar uno de ellos** (3 para definir y 3 para identificar). La puntuación máxima será de **3 puntos**.
- El **cuarto** bloque consta de dos pares de mapas. El estudiante debe **cumplimentar uno de estos pares de mapas** (provincias y unidades de relieve, o provincias y ríos). La puntuación máxima será de **2 puntos**.

**Todas las preguntas han de ser respondidas en el cuadernillo del examen, identificando claramente cada una de ellas con su número, aunque no necesariamente en el mismo orden.**

**Es obligatorio responder a cuestiones de cada bloque** para llegar a la puntuación máxima del examen (10).

**Observación importante:** en ningún caso se corregirá un número mayor de preguntas de las indicadas para cada bloque de preguntas. Para la corrección se seguirá el orden en el que las respuestas aparezcan desarrolladas por el estudiante. Solo si el estudiante ha tachado alguna de ellas, se entenderá que esa pregunta no debe ser corregida; en ese caso, se le corregirá aquella que ocupase el correspondiente y lógico lugar de la tachada, siempre y cuando pertenezca a su misma agrupación y en el orden de respuesta.

### BLOQUE 1: TEMAS. (Puntuación máxima: 2,5 puntos)

**Pregunta 1. Responda a uno de los dos temas siguientes** (redactando con orden, coherencia y claridad expositiva):

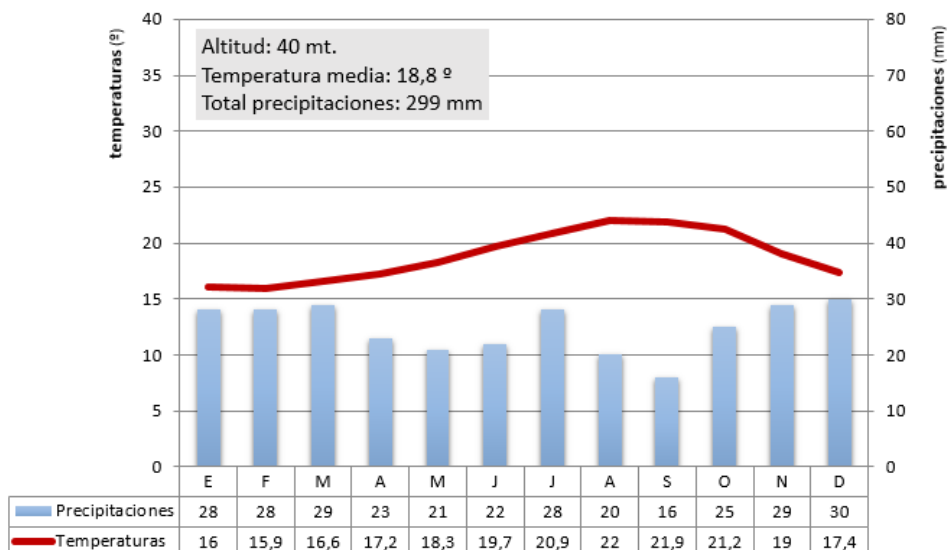
- UNIDADES DEL RELIEVE ESPAÑOL. Características generales. La Meseta y sus unidades interiores. Los rebordes montañosos de la Meseta. Los sistemas y unidades exteriores. Los relieves insulares.
- EL ESPACIO RURAL: Principales paisajes agrarios de España y sus características.

### BLOQUE 2: EJERCICIOS PRÁCTICOS: (Puntuación máxima: 2,5 puntos)

**Pregunta 2. Comente uno de los gráficos propuestos a continuación:**

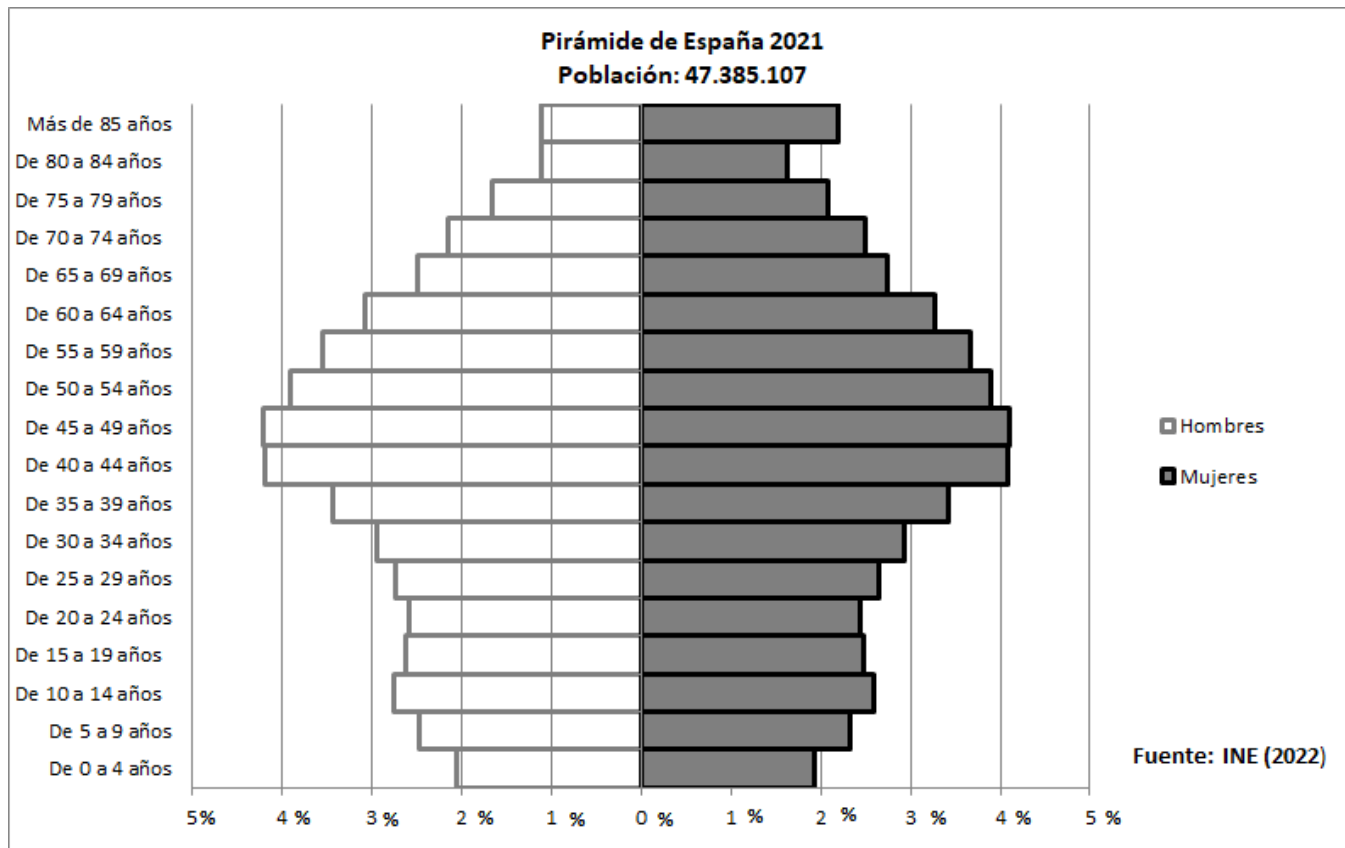
**2.1. Analiza y comenta el siguiente climograma (2,5 puntos):**

- Realice un análisis de los elementos termo-pluviométricos representados.
- Explique los principales factores climáticos que influyen en el mismo. Indique qué tipo de clima se trata y sus características principales.



**2.2. Analiza y comenta la siguiente pirámide de población (2,5 puntos):**

- a) Indique que tipo de estructura representa
- b) Señala sus características generales atendiendo a la distribución por sexos y edades.



**BLOQUE 3. TÉRMINOS GEOGRÁFICOS. Responda a uno de los dos ejercicios siguientes (3 puntos)**

**Ejercicio 3.1**

**a.- Defina** los siguientes conceptos geográficos (1,5 puntos):

- a.1) Vertiente Hidrográfica
- a.2) Agricultura Intensiva
- a.3) Centro histórico o casco antiguo

**b.- Identifique** el término adecuado a cada una de las definiciones (1,5 puntos):

- b.1) Forma de relieve residual que ha quedado aislada por la erosión fluvial y da testimonio de una anterior plataforma tabular.
- b.2) Contabiliza la diferencia entre las importaciones y las exportaciones de todo tipo de productos.
- b.3) Fenómeno consistente en el abandono del medio rural por parte de la población, que marcha hacia los núcleos urbanos buscando una mejora en el nivel de vida.

**Ejercicio 3.2**

**a.- Defina** los siguientes conceptos geográficos (1,5 puntos):

- a.1) Dehesa
- a.2) Sector Secundario
- a.3) Ensanche

**b.- Identifique** el término adecuado a cada una de las definiciones (1,5 puntos):

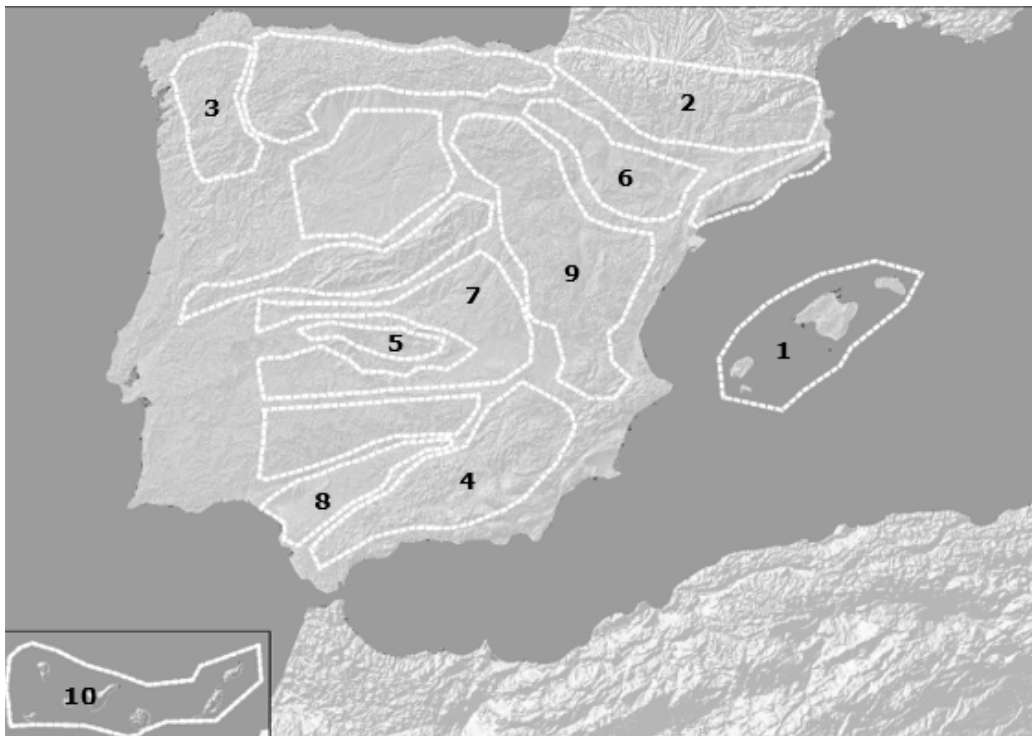
- b.1) Es un centro de acción con presión atmosférica alta (superior a 1.013 milibares, que es la presión media a nivel del mar)
- b.2) Técnica agrícola basada en el aporte artificial de agua a los campos de cultivo.
- b.3) Es el total de nacimientos que se producen en un lugar y un año por cada 1.000 mujeres en edad fértil (entre los 15 y 49 años).

**BLOQUE 4: MAPAS. Resuelva uno de los dos ejercicios propuestos (2 puntos)**

**Ejercicio 4.a:** Identifique las diez provincias señaladas en el mapa (1 punto).



- Identifique las diez unidades de relieve señaladas en el mapa (1 punto).



**Ejercicio 4.b:** Identifique las diez provincias señaladas en el mapa (1 punto).



- Identifique los diez ríos señalados en el mapa (1 punto).

